



manav mangal SMART SCHOOL
Session 2023-24

Class/Section: _____ V _____



Cover Page designed by: Ridhima Mehra (IX-C)

Instructions :

1. Students to do Summer Vacation Home Assignments in a thin notebook per subject.
2. Please ensure that assignments are done on regular basis to avoid piling it up.
3. Summer Vacation Home Assignments carries a significant weightage in Internal Assessment which will be added to the Result of Mid Term Examination.

Dates of Submission of Summer Vacation Home Assignment

S.No.	Subjects	Dates of Submission
1	English / Hindi	July 03, 2023
2	Maths / EVS / Science	July 04, 2023
3	Social Science / Punjabi	July 05, 2023

SUBJECT : ENGLISH

ASSIGNMENT NO. 1

Max. Marks : 40

General Instructions:

- * All questions are compulsory.
- * Content included from -
 - a) Reading - Comprehension (5 Marks)
 - b) Writing - Notice writing (10 Marks)
 - c) Grammar - Ch-1 Sentences, Ch-2 Types of Sentences, Ch-3 Nouns (10 Marks)
 - d) Literature - Ch- 1 Who Did Patrick's Homework?, Poem-Day By Day I Float My Paper Boats (15 Marks)

SECTION A (READING)

1. Read the following passage and choose the correct options: (5)

King Akbar regularly took walks to find out how the people in his kingdom were doing. He asked his minister to always carry some gold coins to give to the needy on his way. (para1)

One day, as he was walking, he saw an old man digging holes and planting mango saplings. Akbar stopped and asked the old man why he was planting so many saplings when he would not be alive to eat the fruits of the trees. The old man smiled and said, 'I do not do this for myself. There would be others who would gain from the trees. These trees will give fruits and shelter to those in need. They will also help bring rain and people will never die of famine.' (para2)

The king was very happy to see that a man could think about others so selflessly. He asked his minister to give the old man a bag of gold. The man thanked the king and said, 'I have got a reward even before the trees have produced fruits.' Akbar was all the more pleased by his statement and gave him another bag of gold coins. The old man said, 'While the trees would bear fruits only once a year, I have been rewarded twice already'. He thanked the king and left with a smile on his face. (para3)

a) Akbar asked his minister to always carry some _____.

- | | |
|-----------------|-------------------|
| i. gold coins | ii. bronze coins |
| iii. gold rings | iv. gold biscuits |

b) As he was walking he saw an old man digging holes and planting _____.

- | | |
|--------------------|--------------------|
| i. apple saplings | ii. mango saplings |
| iii. cutting trees | iv. chopping trees |

- c) The king was very happy to see that a man could think about others so _____.
- | | |
|------------------------|----------------------------|
| i. angrily | ii. selfishly |
| iii. selflessly | iv. None of these |
- d) Find a word from the passage which means the same as 'baby plant' _____
(para2)
- | | |
|---------------------|---------------------|
| i. sapling | ii. fruit |
| iii. trees | iv. famine |
- e) The old man was selfish.
- | |
|-------------------|
| i. True |
| ii. False |

SECTION B (WRITING)

2. You are a student of Golden Bells Public School. You lost your raincoat in the Indoor Sports Complex. Write the body of the notice in about 50 words. (Describe the raincoat and offer a suitable reward.) (3)
3. You are Divya Sharma, the head girl of your school. You have to inform the students of classes III to V about the Art Exhibition to be held in school. Write the format of the notice. (3)
4. Should time be mentioned in 'Notice'? (1)
 - a. Yes
 - b. No
5. Notice writing is a form of writing. (1)
 - a. informal
 - b. personal
 - c. formal
 - d. casual
6. The following is essential in both diary writing as well as notice writing : (1)
 - a. Name of the institution
 - b. Salutation
 - c. Time
 - d. Subject/ heading

7. This should come at the last of Notice Writing: (1)

- a. Subject
- b. Writer's name
- c. Designation of the writer
- d. Date

SECTION C (GRAMMAR)

8. Rice is a/an _____ noun. (1)

- a. countable
- b. uncountable
- c. abstract
- d. collective

9. The abstract noun of 'wise' is____ (1)

- a. wiseness
- b. wisdom
- c. wiser
- d. wisery

10. Identify the type of sentence: (1)

I like gardening.

- a. Declarative
- b. Interrogative
- c. Imperative
- d. Exclamatory

11. Do as directed: (7)

- a. Write P for a Phrase and S for a Sentence:
 - (i) My grandmother told me an interesting story.
 - (ii) in the almirah
- b. Underline the Subject and circle the Predicate:
The flowers in the blue vase are beautiful.
- c. Change the following sentence into a negative sentence:
Ram plays in the garden.
- d. Change the following sentence into an interrogative sentence:
They have completed their project.
- e. Make an abstract noun of the word in brackets:
God's (create) is wonderful.

- f. His(brave) is praiseworthy:
- g. Identify the direct and indirect objects in the following sentence:
The mother gave new dresses to her daughter.
Direct object
Indirect object

SECTION D (LITERATURE)

12. Complete the following sentences. (2)

- a. The poet wrote his.....
- b. Patrick loved to play.....

13. Circle the correctly spelled word: (2)

- a. breaches/breeches/brieches
- b. bulging/buelging/balging

14. Make sentences of the following words: (2)

- a. Wrinkle
- b. Playmate

15. Answer the questions briefly: (6)

- a. What is the 'significance' of shiuli flowers?
- b. Why did the elf agree to help Patrick?
- c. What happened on St. Patrick's Day?

16. Reference to the context: (3)

**I hope that someone in some strange land will find
them and know who I am**

- a. Name the poem and the poet.
- b. Who is 'I' in the poem?
- c. How will anyone come to know about 'I'?

ASSIGNMENT NO. 2

MAXIMUM MARKS: 40

All questions are compulsory.

* Content included from -

- a) Reading - Comprehension (5Marks)
- b) Writing - Diary Entry (10 Marks)
- c) Grammar - Ch-4 Nouns Gender, Ch-5 Possessive Nouns (10 Marks)
- d) Literature - Ch- 3 The Three Spinners, Poem-My Shadow (15 Marks)

SECTION A (READING)

1. Read the following poem and answer the questions that follow: (5)

A RIDDLE

Why does it so happen
In the world, some are so rich
and others are born poor?
The rich travel in cars
Some food they eat
The rest they throw.
The sickly beggar crawls
Stretching a thin hand
Crying for a crumb of bread.
The sight makes me shiver
I Am sad at this riddle.
God why to some it happens
How to me it has not?

On the basis of your reading of the poem, tick the correct answer for each of the statements given below.

- (a) In the world there are
 - (i) no poor people
 - (ii) some people who are very rich
and some who are very poor
 - (iii) only poor people
 - (iv) only sad people
- (b) The rich people
 - (i) don't eat food
 - (ii) don't like to give food to the poor
 - (iii) waste food
 - (iv) give away all the food
- (c) The beggar in the poem is begging for
 - (i) money
 - (ii) clothes
 - (iii) food
 - (iv) shelter
- (d) The poet asks God why
 - (i) the rich travel in cars
 - (ii) the beggar crawls and begs
 - (iii) only some people suffer
 - (iv) only some eat food
- (e) While writing the poem, the poet feels
 - (i) sad
 - (ii) happy
 - (iii) sick
 - (iv) sleepy

SECTION B (WRITING)

2. You are a Riya/ Riyan. Write the content of a diary entry expressing your views about homework. (3)
3. Write the format of the Diary Entry. (3)
4. Should time be mentioned in a 'Diary Entry' ? (1)
- a. Yes
- b. No
5. Diary writing is a form of writing. (1)
- a. casual
- b. personal
- c. formal
- d. informal
6. The box is necessary in diary writing : (1)
- a. Yes
- b. No
7. This should come at the last of Diary Writing: (1)
- a. Subject
- b. Writer's name
- c. Designation of the writer
- d. Date

SECTION C (GRAMMAR)

8. 'Friend' is a gender. (1)
- a. masculine
- b. feminine
- c. common
- d. neuter
9. The ball of a boy can be written as: (1)
- a. Boys' ball
- b. Boys's ball
- c. Boyss' ball
- d. A Boy's ball

10. Tell the masculine gender of 'sow': (1)

- a. Vixen
- b. Rooster
- c. Duck
- d. Boar

11. Do as directed: (7)

- a. Change the Genders:
 - (i) He is the king of the empire.
 - (ii) My father is a doctor.
 - (ii) A stallion is running in the meadow.
 - (iv) The milkman brought some milk.
- b. Form the Possessive case:
 - (i) The girl dress was red.
 - (ii) My (mother) bag is new.
 - (iii) The (teacher) class is on the top floor.

SECTION D (LITERATURE)

12. Complete the following sentences. (2)

- a. And what can be the use of him.....
- b. The Queen had endless supplies of

13. Circle the correctly spelled word: (2)

- a. treadding/ treading/ tradding
- b. funiest/ funniset/ funniest

14. Make sentences of the following words: (2)

- a. Coward
- b. Industrious

15. Answer the questions briefly: (6)

- a. Why did the poet feel ashamed?
- b. Who was Laurel? Where did she live?
- c. Which quality of Laurel did the Queen appreciate?

16. Reference to the context: (3)

**I have a shadow that goes in and out with me,
And what can be the use of him is more than I can see.**

- a. Name the poem and the poet.
- b. Who is 'I' in the poem?
- c. What does the poet talk about in the above lines ?

SUBJECT : MATHEMATICS

ASSIGNMENT NO. 1

Time Allowed : 90 Minutes

Max. Marks : 40

Q1. Choose the correct option:

(15)

- a) Find the successor of 213140
i) 213140 ii) 213141 iii) 213142 iv) None of these
- b) Find the predecessor of 213140
i) 213141 ii) 213139 iii) 13140 iv) None of these
- c) The Symbol of per cent is
i) ₹ ii) % iii) \$ iv) None of these
- d) The greatest seven digit number is
i) 100000 ii) 9999999 iii) 1099999 iv) None of these
- e) LXIX in Hindu Arabic
i) 79 ii) 69 iii) 99 iv) None of these
- f) Per cent means
i) per ten ii) per hundred iii) per one iv) None of these
- g) 1 % means
i) one tenths ii) one hundredths iii) one thousandths iv) None of these
- h) Place value of 4 in 94315679
i) 4000000 ii) 40000000 iii) 400000 iv) None of these
- i) 1 million = _____
i) 1 lakh ii) 1 crore iii) 10 lakhs iv) None of these
- j) Seven million three hundred sixty thousand two hundred ninety two in figures is _____ .
i) 7360292 ii) 7306292 iii) 7306292 iv) None of these
- k) 72 % = _____
i) $\frac{72}{10}$ ii) $\frac{71}{1000}$ iii) $\frac{72}{100}$ iv) None of these
- l) 99 % in decimals = _____
i) 0.09 ii) 0.99 iii) 9.9 iv) None of these

- m) The digit in ten lakh place in 34,56,789
 i) 5 ii) 4 iii) 3 iv) None of these
- n) Use symbol 55,70,33,456 ____ 55,07,44,652
 i) < ii) > iii) = iv) None of these
- o) $\frac{13}{100} = \underline{\hspace{2cm}} \%$
 i) 13 % ii) 100 % iii) 131 % iv) None of these

Q2 Solve the following:

3 Marks

- a) Write the number 33,505,311 in words. (International system)
 b) Write in descending order 32,17,811; 75,64,011; 78,64,011; 10,09,351.
 c) Subtract XCVIII - LXIX and write in Hindu Arabic.

Q3 Solve :

3 Marks

- a) The sum of the place value of two 9's in 96,40,892 is _____
 b) Find the place value of 3 in 2345121 in figures and words.
 c) Write 1,23,045 in expanded form.

Q4. Do as directed:

4 marks

- a) Convert the following fraction into percent
 i) $\frac{6}{100} = \underline{\hspace{2cm}}$
 ii) $\frac{8}{25} = \underline{\hspace{2cm}}$
- b) Convert the following decimal into per cent :
 i) 0.12 = _____
 ii) 0.5 = _____

Q5. Solve:

5 marks

Complete the table

a)

Number	Successor	Predecessor
10,00,00,000		

- b) Convert $\frac{6}{2}$ into per cent by multiplying by 100
- c) Teachers asked a child, to write 1320201 in words. He wrote thirteen lakh two thousand two hundred one. Is the child correct, if not what is the correct answer?

Q6. Solve:

5 marks

a) Write the smallest and greatest 7-digit number using each of the following digits.

Digit	Smallest	Greatest
3,6,2,0,1,8		

b) Complete the table:

Fraction / Decimal	Per cent
$\frac{4}{5}$	
	82 %
0.43	

Q7. Solve:

5 marks



The population of a city was **1122337**. There are **989500** men in the city The number of children is **467902**. Answer the following questions :

a) Write the population of the city in words (International System).

Ans. _____

b) Write the number of males in words (Indian system)

Ans. _____

c) Write the Successor of the number of children.

Ans. _____

d) What is the number of Females?

Ans. _____

e) Write the predecessor of the no. of males.

Ans. _____

ASSIGNMENT NO. 2

Time Allowed : 90 Minutes

Max. Marks : 40

Q1. Choose the correct option:

15 marks

- a) The numbers we add are called_____
i) Subtrahend ii) Minuend iii) Addends iv) Sum
- b) The result after addition is called_____
i) Subtrahend ii) Minuend iii) Addends iv) Sum
- c) Any number added to zero the sum is_____
i) 0 ii) 1 iii) Number itself iv) None of these
- d) Addends are the numbers we _____.
i) Add ii) Subtract iii) Divide iv) Multiply
- e) In subtraction the greater number is called_____
i) Subtrahend ii) Minuend iii) Addends iv) Sum
- f) In subtraction the number from which another number is subtracted is called_____
i) Subtrahend ii) Minuend iii) Addends iv) Sum
- g) Any number multiplied by zero, product is always _____.
i) 1 ii) 0 iii) Number itself iv) None of these
- h) Any number multiplied by 1, product is_____.
i) 1 ii) 0 iii) Number itself iv) None of these
- i) Any non zero number subtracted with zero the difference is
i) 0 ii) 1 iii) Number itself iv) None of these
- j) $122 \times 1 \times 0 =$ _____
i) 122 ii) 1 iii) 0 iv) None of
- k) Solve $41 \times 12 \times 0 =$ _____
i) 4112 ii) 0 iii) 861 iv) None of these
- l) $13456 \times 1000 =$ _____
i) 1345600 ii) 13456000 iii) 13456 iv) None of these
- m) Add $567083 + 397927$
i) 965001 ii) 965010 iii) 965011 iv) None of these

n) Divide 13400 by 10

- i) $Q = 1340$ $R = 0$ ii) $Q = 13400$ $R = 0$ iii) $Q = 1340$ $R = 1$ iv) None of these

o) The result in subtraction is called _____

- i) Sum ii) Difference iii) Addends iv) Division

Q2 Solve the following:

3 marks

a) What is 2 lakhs more than 5478122.

b) Add $\begin{array}{r} 2788269 \\ + 6640921 \\ \hline \end{array}$

c) Subtract $\begin{array}{r} 7869802 \\ - 3126483 \\ \hline \end{array}$

Q3 Solve:

3 marks

- a) Find the difference of Greatest 7-digit number and Smallest 6-digit number
b) Add $345356 + 45633 + 100$
c) The product of two numbers is 110032. If one number is 101 find the other number?

Q4. Do as directed:

4 marks

- a) Multiply 2046×926
b) Divide 767824 by 42 and Check your answer.

Q5. Solve:

5 marks

- a) Aman is earning ₹ 38,836 every month. How much money does he earn in one year?
b) The sum of two numbers is 4490908. If one number is 100132. Find the other number?
c) Solve: $2315 \times 102 \times 11$


Q6. Solve:

5 marks

- a) Three ropes are 235410 cm, 143255 cm and 234550 cm long. What is the total length of all the ropes?
b) 826512 people visited a zoo in 257 days. How many people visited zoo each day.
c) Divide 30000 by 10.
Quotient = _____ Remainder = _____

Q7. Solve:

5 marks



Look at the menu given here.

Item	Price (in ₹)
1. Chocolate	₹25
2. Pen	₹15
3. Colours	₹40
4. Chart paper	₹5
5. Eraser	₹3

- a) John ordered 2 chocolate, 3 pens and 1 eraser. How much he will pay?
b) If you want to buy all the items from the menu. What is the cost?



c) In a school library there are 119520 books. There are 21000 English Literature books, 34510 Hindi Literature books, 33590 Maths books, 15890 Sanskrit books and rest G.K books.

- i) What is the sum of Maths, Hindi and Sanskrit books?
ii) How many G.K books?
iii) Find the sum of all books

SUBJECT : EVS

ASSIGNMENT NO. 1

Time Allowed : 90 Minutes

Max. Marks : 40

SECTION - A

1. Multiple choice Questions :

(1x15=15)

a. _____ are the filters of our body.

- | | |
|---------------|--------------|
| i. Oesophagus | ii. Kidneys |
| iii. lungs | iv. Arteries |

b. _____ is a single bone in the upper part of the arm.

- | | |
|------------------|-------------|
| i. Humerus | ii. Ulna |
| iii. Bone marrow | iv. Carpals |

c. A long flat bone located in the centre of the chest.

- | | |
|---------------------|-----------------------|
| i. Vertebral column | ii. femur |
| iii. Sternum | iv. None of the above |

d. _____ system comprises brain, nerves and spinal cord..

- | | |
|----------------|-----------------|
| i. Nervous | ii. respiratory |
| iii. Digestive | iv. skeletal |

e. The last pair of molars in the upper and lower jaw are _____.

- | | |
|--------------|------------------|
| i. Incisors | ii. Premolars |
| iii. Canines | iv. Wisdom Teeth |

f. **Vitamin E** helps the body to absorb iron. (Tick the correct option for the underlined word)

- | | |
|----------------|---------------|
| i. Vitamin A | ii. Vitamin B |
| iii. Vitamin C | iv. Vitamin D |

g. The proper quantities of nutrients that are needed by us can be represented

by food supplements. (Tick the correct option for the underlined word)

- i. Balanced diet
- ii. Food pyramid
- iii. Food groups
- iv. Healthy diet

h. An outer thin layer of a bone which contains blood vessels and nerves is called

spongy bone. (Tick the correct option for the underlined word)

- i. Periosteum
- ii. Compact bone
- iii. Cortical bone
- iv. Cancellous bone

i. Deoxygenated blood is sent from the heart to the liver for purification. (Tick the correct option for the underlined word)

- i. Stomach
- ii. Brain
- iii. Lungs
- iv. Kidneys

j. Choose the incorrect statement about Vertebral column

- i. It is made up of 31 small bones called vertebrae.
- ii. It protects the spinal cord.
- iii. It helps us in bending, twisting and holds the body upright.
- iv. Ribs are also attached to the spine at the back.

k. Choose the incorrect statement about the digestive system.

- i. The length of our food pipe is 10 inches.
- ii. The length of the Small intestine is 10 feet.
- iii. The length of the Large intestine is 5 feet.
- iv. Stomach is a muscular J shaped sac.

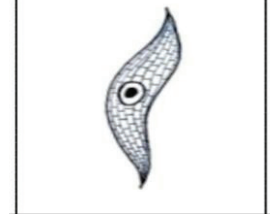
l. This is a picture of _____ joint.

- i. Ball and socket joint
- ii. Pivot joint
- iii. Hinge joint
- iv. Gliding joint



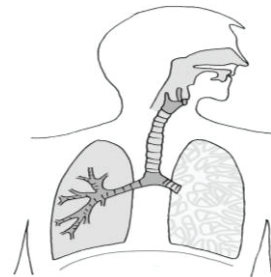
m. Identify the given picture

- i. Smooth Muscle
- ii. Cardiac Muscle
- iii. Skeletal Muscle
- iv. None of the above




n. Identify the given system

- i. Respiratory System
- ii. Digestive System
- iii. Skeletal System
- iv. None of the above



o. Nutrient placed at the bottom of the food pyramid.

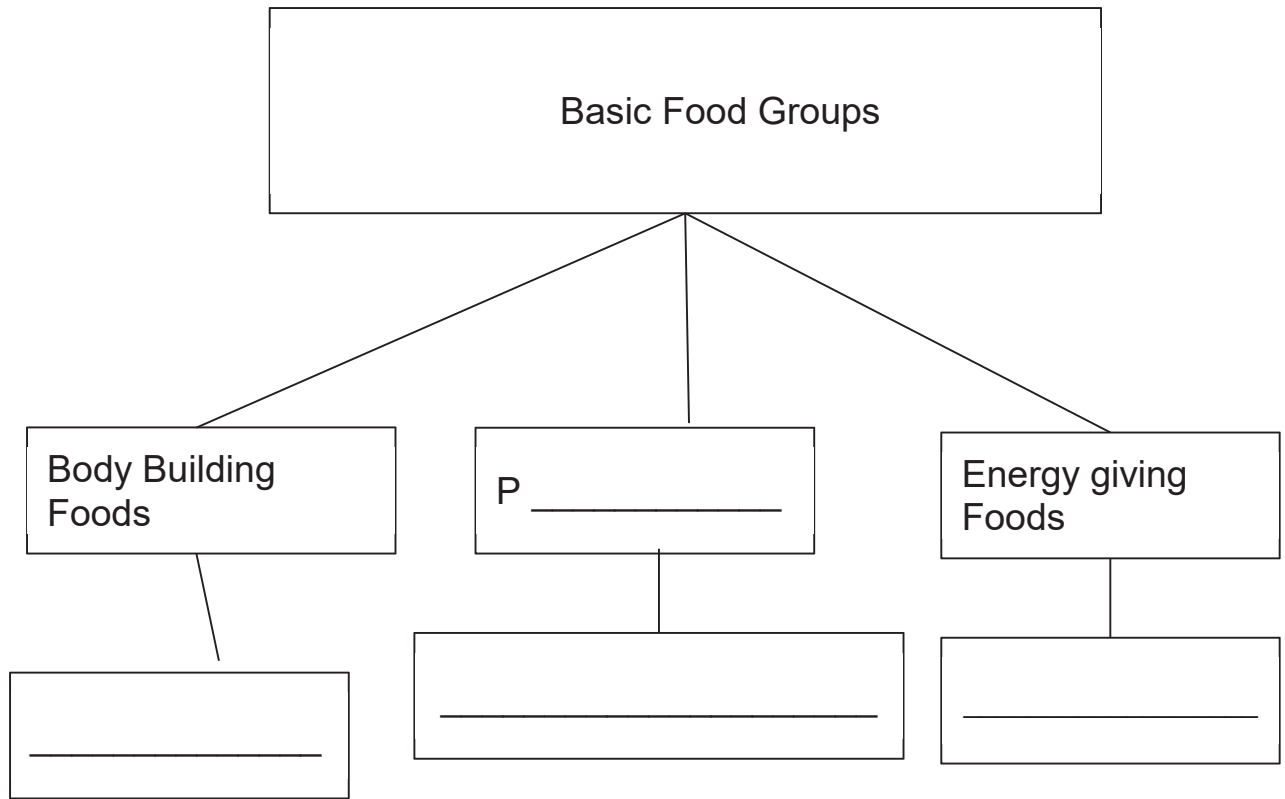
- i. Proteins
- ii. Carbohydrates
- iii. Fats
- iv. Vitamins and minerals



Section B

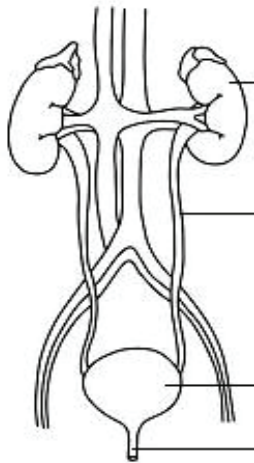
Q 2 Complete the following flow chart-

(1x4=4)

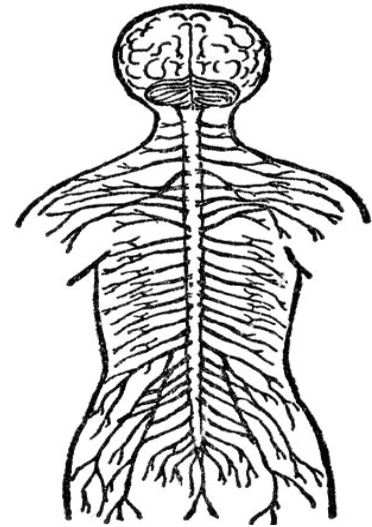


Q 3 Label the parts of the given diagram-

(2)



- i) This is the picture of _____ system.
- ii) The Brain is the major part of this system.
- iii) It processes all the _____ and stores the _____.
- iv) The _____ and spinal cord work in close association to let messages flow back and forth between the brain and the body.



Q 5- Answer the given questions-

- a. Why does a newborn baby have 300 bones and adult human beings have 206 bones? (2)
- b. What happens to the food in the small intestine? (3)

Q 6

- a. What is the role of nutrients in our body? (2)
- b. Write three functions of a skeleton. (3)

Q 7

- a. Why is it important to drink adequate water? (2)
- b. Write a short note on the functioning of the Nervous System. (3)

ASSIGNMENT NO. 2

Time Allowed : 90 Minutes

Max. Marks : 40

SECTION -A

1. Multiple choice Questions : (1x15=15)

a. The imaginary lines of equal length running from North pole to South Pole are called _____.

- | | |
|----------------|--------------------|
| i. Latitude | ii. Equator |
| iii. Longitude | iv. Prime meridian |

b. The deficiency of Vitamin A causes disease _____.

- | | |
|----------------|---------------------|
| i. Scurvy | ii. Night blindness |
| iii. Beri-Beri | iv. Rickets |

c. The length of the lines of latitudes moving from Equator to poles _____

- | | |
|--------------|-----------------------|
| i. Decreases | ii. Increases |
| iii. Same | iv. None of the above |

d. Andaman and Nicobar islands lie in the _____.

- | | |
|--------------------|--------------------|
| i. Arabian sea | ii. Indian ocean |
| iii. Bay of bengal | iv. Atlantic ocean |

e. Siachen and Biafo glaciers found in _____ range.

- | | |
|----------------|--------------|
| i. Himalayan | ii. Aravalli |
| iii. Karakoram | iv. Shivalik |

f. The union territories that lie within the Himalayas are **Daman and Diu**. (Tick the correct option for the underlined word)

- | | |
|-----------------------------|---------------------------------|
| i. Jammu Kashmir and Ladakh | ii. Andaman and Nicobar Islands |
| iii. Dadra and Nagar Haveli | iv. Puducherry and Lakshadweep |

g. **Maps** are 3D representations of an area on a flat surface. (Tick the correct option for the underlined word)

- | | |
|------------|-------------------|
| i. Globes | ii. Grid |
| iii. Atlas | iv. Political map |

h. **Fats** help us to build, repair and maintain our tissues and muscles. (Tick the correct option for the underlined word)

- | | |
|------------------|--------------|
| i. Carbohydrates | ii. Proteins |
| iii. Vitamins | iv. Roughage |

i. The **Tropic of Cancer** passes through Greenwich near London. (Tick the correct option for the underlined word)

- | | |
|--------------------|----------------------|
| i. Equator | ii. Prime Meridian |
| iii. Arctic Circle | iv. Antarctic Circle |

j. Choose the incorrect statement.

Latitudes are

- i. The imaginary parallel lines on the globe.
- ii. They are 360 in numbers.
- iii. The length of lines of latitudes are decreasing.
- iv. The lines of latitudes run from west to east.

k. Choose the incorrect statement.

Vitamin C

- i. The deficiency of vitamin C causes Goitre.
- ii. Citrus fruits are a rich source of vitamin C.

- iii. It helps the body to absorb Iron.
- iv. It is necessary for healthy teeth, gums and joints.

I. Identify the given picture

- i. Political Map
- ii. Thematic Map
- iii. Physical Map
- iv. None of the above



m.

- Map symbol represent
- i. Bridge
 - ii. Viewpoint
 - iii. Post office
 - iv. Camp site



n.

Deficiency of Vitamin D cause

i. Beri-Beri

ii. Goitre

iii. Rickets

iv. Scurvy



o.

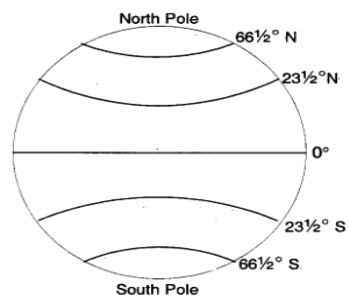
Name of the parallel latitude at $23\frac{1}{2}^{\circ}\text{N}$

i. Equator

ii. Tropic of Capricorn

iii. Tropic of Cancer

iv. Arctic Circle




SECTION -B

1. Picture Recognition:

((1x4 =4)

- i) This is the picture of the grid.
- ii) It is a network of lines of _____ and _____ .
- iii) The point at which these lines intersect each other helps us to _____ a place.
- iv) There are _____ lines of latitude including equator.



2. Answer the following questions-

(2x3=6)

- a. Give the detail of given physical division of india under the following head-

The Great Deccan plateau	
Soil: This region has _____	
Location: This region _____	
Climature: This region _____	

b. Give the detail of given physical division of india under the following head-

The Great Indian Desert
Soil: This region has _____
Location: This region _____ _____
Climate: This region _____ _____ _____

3. Answer the given questions-

a) Why are colours and symbols used on a map?(Any two points) (2)

b) What is roughage? What is its importance? (3)

4. a) Define maps ? Name the three main categories of maps? (2)

b) What are the limitations of using a map (paper map)? (3)

5. a) Complete the following table . (3)

States	Capitals
Madhya Pradesh	
Himachal Pradesh	
Sikkim	

b) What are deficiency diseases? Give two examples. (2)

SUBJECT : HINDI

ASSIGNMENT NO. 1

Time Allowed : 90 Minutes

Max Marks. : 40

खंड- क

निम्नलिखित प्रश्नों के सही विकल्प चुनिए।

(15)

1. बूँद को किस बात का दुख हो रहा था ?

- i) बूँद बनने का
- ii) बादल बनने का
- iii) घर छोड़ने का
- iv) मोती बनने का

2. शेर झरने के पास क्यों गया ?

- i) आराम करने
- ii) नहाने
- iii) पानी पीने
- iv) सोने

3. ' बदा ' शब्द का अर्थ _____ है ?

- i) इरादा
- ii) भाग्य
- iii) लिखा
- iv) शांति

4. शुद्ध शब्द चुनिए ?

- i) जिजकते
- ii) झिझकते
- iii) जिझकते
- iv) झीझकते

5. " होशियार रहो! होशियार रहो! इस पेड़ के नीचे शेर बैठा है ? किसने-किससे कहा।

- i) मालिक ने लड़के से
- ii) लड़के ने चार आदमियों से
- iii) चार आदमियों ने मालिक से
- iv) लड़के ने भगवान से कहा

6. एक बूँद कविता के कवि का क्या नाम है?

- i) रामधारी सिंह दिनकर
- ii) अयोध्यासिंह उपाध्याय 'हरिऔध'
- iii) द्वारिका प्रसाद माहेश्वरी
- iv) हरिवंश सिंह

7. गड़रिए के लड़के ने जानवरों को कब इकट्ठा किया?

- i) सुबह के समय
- ii) शाम के समय
- iii) रात के समय
- iv) दिन के समय

8. भाषा का अस्थाई रूप निम्नलिखित में कौन-सा है ?

- i) मौखिक
- ii) लिखित
- iii) सांकेतिक
- iv) उपर्युक्त कोई नहीं

9. किस स्वर की मात्रा नहीं होती ?

- i) इ
- ii) अ
- iii) आ
- iv) ऊ

10. भाषा को लिखने की विधि को क्या कहते हैं?

- i) बोली
- ii) भाषा
- iii) लिपि
- iv) वाक्य

11 स्वर के कितने भेद होते हैं?

- i) दो
- ii) चार
- iii) तीन
- iv) पाँच

12. संस्कृत और हिंदी भाषा की लिपि कौन-सी है ?

- i) फ़ारसी
- ii) गुरुमुखी
- iii) देवनागरी
- iv) रोमन

13. वर्ण को और क्या कहते हैं ?

- i)स्वर
- ii)व्यंजन
- iii)अक्षर
- iv)अयोगवाह

14. जम्मू कश्मीर में कौन-सी भाषा बोली जाती है?

- i) मराठी
- ii) मलयालम
- iii) डोगरी
- iv) हिंदी

15. भाषा के शुद्ध ज्ञान का माध्यम निम्नलिखित में कौन-सा है?

- i) शिक्षक
- ii) ऋषि
- iii) व्याकरण
- iv) भाषा

खंड-ख

1) निम्नलिखित प्रश्नों के उत्तर दें।

(3x2=6)

क. सीप में गिरने के बाद बूँद का क्या हुआ?

ख. बूँद सीप के मुँह में कैसे जा पड़ी?

ग. बादलों की गोद से निकलकर बूँद क्या सोचने लगी?

2. दिए गए शब्दों के अर्थ लिखिए।

(3x1=3)

क. दैव

ख. जी

ग. किंतु

3. निर्देशानुसार उत्तर दें ।

(7)

क) निम्न शब्दों से वाक्य बनाएँ

(2X1=2)

- i) समुंदर
- ii) अँगारा

ख) खाली स्थान भरो।

(3X1=3)

- i) उस _____ एक ऐसी _____ चली ।
- ii) _____ के वेग से बूँद समुद्र की ओर आई ।
- iii) बूँद _____ से निकली और _____ छोड़कर यों कढ़ी।

ग) किसने - किससे कहा ?

(2X1=2)

- i) " मैं डरता था, गाय जो खोई थी ।"
- ii) " क्या तू तीन दिन से इसी पेड़ पर था?

4. निर्देशानुसार उत्तर दें-

(4)

क) अनेक शब्दों के लिए एक शब्द लिखें ।

- i) जो जल में रहता है
- ii) बहुत बोलने वाला -

ख) दो - दो पर्यायवाची शब्द लिखें -

i) शरीर -

ii) राजा -

ग) विलोम शब्द लिखें -

i) निंदा -

ii) सुगम-

5. ऐच्छिक विषय बदलने हेतु प्रधानाचार्या जी को प्रार्थना -पत्र लिखें । (5)

ASSIGNMENT NO. 2

Time Allowed : 90 Minutes

Max Marks : 40

खंड 'क'

निम्नलिखित बहुविकल्पीय प्रश्नों के सही उत्तर चुनें - (प्रश्न 1 से 15 तक) (15)

1. चंद्रमा कहाँ का अँधियारा नहीं मिटा पाता ?

- i. बाहर का
- ii. अंदर का
- iii. आसमान का
- iv. धरती का

2. शुद्ध शब्द चुनिए-

- i. अहंकार
- ii. आहंकार
- iii. अहमकार
- iv. अंकहार

3. नक्षत्रों का प्रकाश कौन नहीं बुझा सके?

- i. हवा
- ii. आँधी-तूफान
- iii. पानी
- iv. सितारे

4. दीया अपने-आप को किससे महान समझने लगा?

i. नक्षत्रों से

ii. सूर्य से

iii. चंद्रमा से

iv. सूर्य और चंद्रमा दोनों से

5. किसी व्यक्ति, स्थान, पदार्थ, भाव आदि के नाम को क्या कहते हैं?

i. भाषा

ii. संज्ञा

iii. सर्वनाम

iv. लिंग

6. कलंक शब्द का अर्थ क्या है?

i. काला दाग

ii. अंधकार

iii. रेखा

iv. तारे

7. निम्न में कौन-सा शब्द व्यक्तिवाचक संज्ञा का उदाहरण है?

i. ताजमहल

ii. मिठास

iii. फूल

iv. कोई नहीं

8. संज्ञा के कुल कितने भेद हैं?

- i. दो
- ii. तीन
- iii. चार
- iv. पाँच

9. निम्नलिखित में पुल्लिङ्ग कौन-सा है ?

- i. पृथ्वी
- ii. सूर्य
- iii. चाँदी
- iv. प्यास

10. इनमें से कौन-सा संज्ञा का भेद नहीं है?

- i. व्यक्तिवाचक
- ii. पुरुषवाचक
- iii. जातिवाचक
- iv. भाववाचक

11. जातिवाचक संज्ञा का उदाहरण कौन-सा नहीं है?

- i. फूल
- ii. मिठास
- iii. गुलाब
- iv. कक्षा

12 . ताजमहल शब्द कौन-सा संज्ञा भेद है?

- i. व्यक्तिवाचक संज्ञा
- ii. जातिवाचक संज्ञा
- iii. भाववाचक संज्ञा
- iv. पुरुषवाचक

13. संसार के सभी नाम क्या कहलाते हैं?

- i. संज्ञा
- ii. विशेषण
- iii. क्रिया
- iv. कारक

14. निम्नलिखित में लिंग की अभिव्यक्ति किससे होती है ?

- i. जो वस्तु की विशेषता बताए
- ii. जो वस्तु की संख्या बताए
- iii. जो संज्ञा शब्द स्त्री या पुरुष होने का बोध कराए
- iv. उपर्युक्त कोई नहीं

15. तपस्वी शब्द का स्त्रीलिंग रूप कौन सा है ?

- i. तपास्विनी
- ii. तपस्वनी
- iii. तपस्विनी
- iv. तापस्विनी

खंड-ख

1. निम्नलिखित प्रश्नों के उत्तर दें ।

(3X2=6)

क) चंद्रमा कहाँ का अँधियारा नहीं मिटा पाता?

ख) लड़के ने किस प्रकार अपनी जान बचाई?

ग) दीये ने चंद्रमा से अपनी तुलना किस प्रकार की?

2. दिए गए शब्दों के अर्थ लिखिए।

(3X1=3)

क) सन्नाटा

ख) अचंभा

ग) सतत

3. निर्देशानुसार उत्तर दें ।

(7)

क) निम्न शब्दों से वाक्य बनाएँ

i) प्रयास

ii) तरकीब

ख) खाली स्थान भरो।

i) चारों आदमियों ने एक साथ _____ चलाई।

ii) शेर पेड़ के नीचे खड़ा लड़के की तरफ _____ आँखों से देख रहा था ।

iii) सूर्य और _____ को अपनी महानता का घमंड नहीं था।

ग) किसने - किससे कहा ?

i) “हाँ, उतरता कैसे शेर जो नीचे बैठा था ।”

ii) “हमने तो समझा था कि किसी शेर ने तुझे मार कर खा लिया होगा।”

4. निर्देशानुसार उत्तर दें - (4)

क) अनेक शब्दों के लिए एक शब्द लिखें ।

i) मीठा बोलने वाला -

ii) भाषण देने वाला -

ख) दो - दो पर्यायवाची शब्द लिखें -

i) शरीर -

ii) किनारा -

ग) विलोम शब्द लिखें -

i) प्राचीन -

ii) कठोर-

5 अनुच्छेद लिखें - (5)

प्रदूषण की समस्या

SUBJECT : PUNJABI

ASSIGNMENT NO. 1

Max.marks:40

SECTION – A (15x1=15)

ਪੈਰਾ ਪੜ੍ਹ ਕੇ ਪ੍ਰਸ਼ਨਾਂ ਦੇ ਉੱਤਰ ਦਿਓ ।

ਜਨਮ ਤੋਂ ਬਾਅਦ ਬੱਚਾ ਆਪਣੀ ਮਾਂ ਤੋਂ ਅਤੇ ਪਰਿਵਾਰਿਕ ਜੀਆਂ ਤੋਂ ਜਿਹੜੀ ਭਾਸ਼ਾ ਸਿੱਖਦਾ ਹੈ, ਉਸ ਨੂੰ ਮਾਂ ਬੋਲੀ ਆਖਦੇ ਹਨ, ਜਿਵੇਂ ਪੰਜਾਬੀ ਬੱਚੇ ਦੀ ਮਾਂ ਬੋਲੀ ਪੰਜਾਬੀ ਹੈ। ਜਿਹੜੀ ਭਾਸ਼ਾ ਸਾਰੇ ਦੇਸ਼ ਨੂੰ ਇੱਕ ਸੁਰ, ਇੱਕ ਡੋਰ ਵਿੱਚ ਬੰਨਦੀ ਹੋਵੇ ਉਸ ਨੂੰ ਰਾਸ਼ਟਰੀ ਭਾਸ਼ਾ ਆਖਦੇ ਹਨ, ਜਿਵੇਂ ਹਿੰਦੀ ਭਾਰਤ ਦੀ ਰਾਸ਼ਟਰੀ ਭਾਸ਼ਾ ਹੈ।

1. ਪੰਜਾਬੀ ਬੱਚੇ ਦੀ ਮਾਂ ਬੋਲੀ ਕਿਹੜੀ ਹੈ ?

- i) ਹਿੰਦੀ ii) ਅੰਗਰੇਜ਼ੀ
- iii) ਪੰਜਾਬੀ iv) ਫ਼ਾਰਸੀ

2. ਹਿੰਦੀ ਕਿੱਥੋਂ ਦੀ ਰਾਸ਼ਟਰੀ ਭਾਸ਼ਾ ਹੈ ?

- i) ਭਾਰਤ ii) ਕੈਨੇਡਾ
- iii) ਜਪਾਨ iv) ਰੂਸ

3. ਕਿਹੜੀ ਭਾਸ਼ਾ ਦੇਸ਼ ਨੂੰ ਇੱਕ ਸੁਰ ਵਿੱਚ ਬੰਨਦੀ ਹੈ ?

- i) ਫ਼ਾਰਸੀ ii) ਅੰਗਰੇਜ਼ੀ
- iii) ਪੰਜਾਬੀ iv) ਰਾਸ਼ਟਰੀ

4. ਭਾਸ਼ਾ ਦੇ ਕਿੰਨੇ ਰੂਪ ਹਨ ?

- i) 2 ii) 4
- iii) 6 iv) 7

5. ਪੁਆਧੀ _____ ਭਾਸ਼ਾ ਹੈ ।

- i) ਸੱਚੀ iii) ਬੁਰੀ
- ii) ਝੂਠੀ iv) ਉਪ

6. ਅਨੁਨਾਸਕੀ ਅੱਖਰ ਤੋਂ ਕੀ ਭਾਵ ਹੈ ?

- i) ਨੱਕ ਰਾਹੀਂ ਬੋਲੇ ਜਾਣ ਵਾਲੇ ਸ਼ਬਦ ii) ਮੂੰਹ ਰਾਹੀਂ ਬੋਲੇ ਜਾਣ ਵਾਲੇ ਸ਼ਬਦ
- iii) ਕੰਨ ਰਾਹੀਂ ਬੋਲੇ ਜਾਣ ਵਾਲੇ ਸ਼ਬਦ iv) ਗਲੇ ਰਾਹੀਂ ਬੋਲੇ ਜਾਣ ਵਾਲੇ ਸ਼ਬਦ

7. ਵਿਆਕਰਨ ਦੇ _____ ਅੰਗ ਹਨ ।

- i) ਚਾਰ ii) ਦੋ
- iii) ਪੰਜ iv) ਤਿੰਨ

8. ਵਾਕ ਰਚਨਾ, ਵਾਕ ਵੰਡ ਦਾ ਗਿਆਨ _____ ਬੋਧ ਤੋਂ ਹੁੰਦਾ ਹੈ ।

- i) ਸ਼ਬਦ ii) ਅਰਥ
- iii) ਵਰਨ iv) ਵਾਕ

i) ਸਾਥੀ ii) ਇੱਜ਼ਤ
iii) ਦੇਸ਼ ਦੀਆਂ ਹੱਦਾਂ iv) ਪਰਾਇਆ

i) ਮਜ਼ਬੂਤ ii) ਪੂਰਾ
iii) ਟੈਂਟ ਜਾਂ ਪੰਡਾਲ iv) ਖੂਨ

i) ਚੀਕੂ ii) ਨਹਿਰੂ ਜੀ
iii) ਹਾਥੀ iv) ਹਰੀਸ਼

i) ਕਿਸਾਨ ii) ਡਾਕਟਰ
iii) ਫੌਜੀ iv) ਵਕੀਲ

i) ਚੀਕੂ ii) ਸ਼ੇਰ
iii) ਹਰੀਸ਼ iv) ਹਾਥੀ

i) ਲੜਾਈ ਹੋ ਗਈ ii) ਸ਼ਾਂਤੀ ਹੋ ਗਈ
iii) ਮੀਂਹ ਆ ਗਿਆ iv) ਅੱਗ ਲੱਗ ਗਈ

i) ਡਾਕਟਰ ii) ਵਕੀਲ
iii) ਫੌਜੀ iv) ਸਰਪੰਚ

(4x1=4)

1. ਖ਼ਾਲੀ ਥਾਵਾਂ ਚਣ ਕੇ ਭਰੋ ।

(ਨੱਕ , ਅੱਠ , ਲਗਾਖਰ , ਪਵਰਗ)

i) ਪੰਜਾਬੀ ਵਰਨਮਾਲਾ ਦੇ ਕੁੱਲ _____ ਵਰਗ ਹਨ।

ii) ਪ ਫ ਬ ਭ ਮ _____ ਵਰਗ ਹੈ।

iii) ਨਾਸਕੀ ਵਿਅੰਜਨ _____ ਰਾਹੀਂ ਬੋਲੇ ਜਾਂਦੇ ਹਨ

iv) ਬਿੰਦੀ, ਟਿੱਪੀ, ਅੱਧਕ ਤਿੰਨ ਹਨ।

2. ਹੇਠ ਲਿਖੇ ਪ੍ਰਸ਼ਨਾਂ ਦੇ ਉੱਤਰ ਦਿਓ । (4x1=4)

- i) ਤਿੰਨ ਲਗਾਥਰ ਕਿਹੜੇ-ਕਿਹੜੇ ਹਨ ?
- ii) ਗੁਰਮੁਖੀ ਵਰਨਮਾਲਾ ਵਿੱਚ ਕਿੰਨੇ ਦੁੱਤ ਅੱਖਰ ਹਨ ?
- iii) ਭਾਰਤ ਵਿੱਚ ਕਿੰਨੀਆਂ ਭਾਸ਼ਾਵਾਂ ਨੂੰ ਮਾਨਤਾ ਪ੍ਰਾਪਤ ਹੈ ?
- iv) ਪੰਜਾਬੀ ਵਿੱਚ ਸ ਤੋਂ ਲ ਤਕ ਸਾਰੇ ਕੀ ਹਨ?

3. ਸ਼ਬਦਾਂ ਦੇ ਅਰਥ ਦੱਸੋ । (3x1=3)
i) ਸ਼ੁਕਰ ਗੁਜ਼ਾਰ ii) ਸੰਪੂਰਨ iii) ਲਹੂ

4. ਹੇਠ ਲਿਖੇ ਪ੍ਰਸ਼ਨਾਂ ਦੇ ਉੱਤਰ ਦਿਓ । (3x1=3)
i) ਪੰਜ ਦਰਿਆਵਾਂ ਦੀ ਧਰਤੀ ਕਿਹੜੀ ਹੈ ?
ii) ਸਾਡਾ ਪੰਜਾਬ ਕਿਹੜੇ ਫੁੱਲ ਵਾਂਗ ਖਿੜਿਆ ਰਹਿੰਦਾ ਹੈ ?
iii) ਚੀਕੂ ਕੀ ਤੋੜਨ ਦੀ ਕੋਸ਼ਿਸ਼ ਕਰ ਰਿਹਾ ਸੀ ?

5. ਖਾਲੀ ਥਾਵਾਂ ਭਰੋ । (2x1=2)
i) ਇੱਕ ਸੰਤਰੇ ਵਿੱਚ _____ ਫਾੜੀਆਂ ਹੁੰਦੀਆਂ ਹਨ ।
ii) ਅੰਬ ਵਿੱਚ _____ ਹੁੰਦੀ ਹੈ ।

6. ਵਾਕ ਬਣਾਓ । (2x1=2)
i) ਦਿੱਲੀ ii) ਅੱਗ

7. ਵੱਡੇ ਪ੍ਰਸ਼ਨ ਦਾ ਉੱਤਰ ਦਿਓ । (2)
ਹਰੀਸ਼ ਨੂੰ ਕਿਹੜਾ ਪੁਰਸਕਾਰ ਮਿਲਿਆ ?

8. ਹੇਠ ਲਿਖੇ ਪ੍ਰਸ਼ਨਾਂ ਦੇ ਦੋ-ਤਿੰਨ ਸ਼ਬਦਾਂ ਵਿੱਚ ਉੱਤਰ ਦਿਓ : (3x1=3)

- i) ਚੀਕੂ ਕਿਸ ਦਾ ਨਾਂ ਸੀ ?
- ii) “ਚੀਕੂ! ਤੂੰ ਰੋ ਨਾ” ਇਹ ਸ਼ਬਦ ਕਿਸਨੇ ਕਹੇ ?
- iii) ਹਰੀਸ਼ ਨੇ ਸਭ ਦੀ ਜਾਨ ਕਿਵੇਂ ਬਚਾਈ ?

9. ਬੋਲੀ ਦੀਆਂ ਕਿੰਨੀਆਂ ਕਿਸਮਾਂ ਹਨ ? ਉਹਨਾਂ ਦੇ ਨਾਂ ਲਿਖੋ । (2)

ASSIGNMENT NO. 2

Max.marks:40

SECTION – A

(15x1=15)

ਪੈਰਾ ਪੜ੍ਹ ਕੇ ਪ੍ਰਸ਼ਨਾਂ ਦੇ ਉੱਤਰ ਦਿਓ ।

ਪਾਣੀ ਕੁਦਰਤ ਦੀ ਇੱਕ ਅਮੁੱਲ ਦਾਤ ਹੈ । ਪਾਣੀ ਨੂੰ ਵਿਅਰਥ ਨਹੀਂ ਕਰਨਾ ਚਾਹੀਦਾ। ਜਿੱਥੇ ਪਾਣੀ ਸਾਡੀ ਪਿਆਸ ਬੁਝਾਉਂਦਾ ਹੈ, ਉੱਥੇ ਸਾਡੀਆਂ ਰੇਜ਼ ਦੀਆਂ ਜ਼ਰੂਰਤਾਂ ਦੀ ਪੂਰਤੀ ਵੀ ਕਰਦਾ ਹੈ। ਗੁਰਬਾਣੀ ਵਿੱਚ ਵੀ ਪਾਣੀ ਦੀ ਬਹੁਤ ਮਹੱਤਤਾ ਦੱਸੀ ਗਈ ਹੈ । ਸਾਡੇ ਕਿੰਨੇ ਹੀ ਕਿੱਤੇ (ਕੰਮ-ਕਾਰ) ਪਾਣੀ ਤੇ ਨਿਰਭਰ ਕਰਦੇ ਹਨ ।

1. ਪਾਣੀ ਕਿਸ ਦੀ ਅਮੁੱਲ ਦਾਤ ਹੈ ?

- i) ਕੁਦਰਤ ii) ਸੂਰਜ
- iii) ਤਾਰੇ iv) ਚੰਦਰਮਾ

2. ਪਾਣੀ ਸਾਡੀ ਕੀ ਬੁਝਾਉਂਦਾ ਹੈ

- i) ਅਕਲ ii) ਪਿਆਸ
- iii) ਗਿਆਨ iv) ਕੁੱਝ ਨਹੀਂ

3. ਕਿਸ ਵਿੱਚ ਪਾਣੀ ਦੀ ਬਹੁਤ ਮਹੱਤਤਾ ਦੱਸੀ ਗਈ ਹੈ ?

- i) ਗਲੀ ਵਿੱਚ ii) ਬਜ਼ਾਰ ਵਿੱਚ
- iii) ਗੁਰਬਾਣੀ ਵਿੱਚ iv) ਦਫ਼ਤਰ ਵਿੱਚ

4. ਅੱਖਰ ਜਾਂ ਵਰਨ ਦੀਆਂ ਕਿੰਨੀਆਂ ਕਿਸਮਾਂ ਹਨ ?

- i) ਚਾਰ ii) ਤਿੰਨ
- iii) ਪੰਜ iv) ਦੋ

5. ਮਾਝੀ _____ ਭਾਸ਼ਾ ਹੈ ।

- i) ਸੱਚੀ iii) ਬੁਰੀ
- ii) ਝੂਠੀ iv) ਉਪ

6.ਹਰ ਵ ਕੀ ਹਨ ?

- i) ਸਵਰ ii) ਦੁੱਤ ਅੱਖਰ
- iii) ਨਾਸਕੀ iv) ਕੁਝ ਨਹੀਂ

7.ਪੰਜਾਬੀ ਵਿੱਚ ਪੈਰ ਬਿੰਦੀ ਵਾਲੇ ਕਿੰਨੇ ਅੱਖਰ ਹਨ ?

- i) 4 ii) 5
- iii) 6 iv) 9

8.ਹਿੰਦੀ ਭਾਸ਼ਾ ਦੀ ਲਿਪੀ ਕਿਹੜੀ ਹੈ?

- i) ਦੇਵਨਾਗਰੀ ii) ਰੋਮਨ
- iii) ਗੁਰਮੁਖੀ iv) ਫ਼ਾਰਸੀ

9.“ ਦੁਸਹਿਰੀ ” ਕਿਸਦੀ ਕਿਸਮ ਹੈ ?

- i) ਸੇਬ ਦੀ ii) ਅਨਾਰ ਦੀ
- iii) ਅੰਬ ਦੀ iv) ਕੇਲੇ ਦੀ

10. “ ਨਿਸ਼ਚਿੰਤ ” ਸ਼ਬਦ ਦਾ ਅਰਥ ਦੱਸੋ ।

- i) ਮਜ਼ਬੂਤ ii) ਚਿੰਤਾ ਰਹਿਤ
- iii) ਸਾਫ਼ iv) ਪਰਾਇਆ

11.ਚੀਕੂ ਦੇ ਦੰਦ _____ ਸਨ ।

- i) ਗੰਦੇ ii) ਨਿੱਕੇ-ਨਿੱਕੇ
- iii) ਹਾਥੀ iv) ਵੱਡੇ-ਵੱਡੇ

12 ਉਹ ਬੱਚੇ ਹੀ ਦੇਸ਼ ਦਾ ਨਾਂ ਰੋਸ਼ਨ ਕਰਦੇ ਹਨ ਜੋ _____

- i) ਨਾਲਾਇਕ ਹੋਣ ii) ਹੁਸ਼ਿਆਰ ਹੋਣ
- iii) ਕਮਜ਼ੋਰ ਹੋਣ iv) ਡਰਪੇਕ ਹੋਣ

13. ਫਲ ਕਿਉਂ ਖਾਣੇ ਚਾਹੀਦੇ ਹਨ ?

- i) ਸਵਾਦ ਲਈ ii) ਪੇਟ ਭਰਨ ਲਈ
- iii) ਚੰਗੀ ਸਿਹਤ ਲਈ iv) ਖ਼ਰਾਬ ਸਿਹਤ ਲਈ

14. ਪੰਜਾਬੀ ਜਿੱਥੇ ਵੀ ਜਾਂਦੇ ਹਨ ਉੱਥੇ ਕੀ ਪ੍ਰਾਪਤ ਕਰਦੇ ਹਨ ?

- i) ਲੜਾਈ ii) ਮਾਣ
- iii) ਗੁੱਸਾ iv) ਨਫ਼ਰਤ

15. ਕੋਲਾ _____ ਕੇ ਖਾਧਾ ਜਾਂਦਾ ਹੈ ?

- i) ਧੋ ii) ਕੱਟ
- iii) ਚੀਰ iv) ਛਿੱਲ

SECTION B

(4x1=4)

1. ਖਾਲੀ ਥਾਵਾਂ ਚੁਣ ਕੇ ਭਰੋ -

(ਦੁੱਤ ਅੱਖਰ, ਵਿਅੰਜਨ , ਨਾਸਕੀ, ,41)

- i) ਪੰਜਾਬੀ ਵਰਨਮਾਲਾ ਵਿੱਚ _____ ਅੱਖਰ ਹਨ ।
- ii) ਨੱਕ ਵਿੱਚੋਂ ਬੋਲੇ ਜਾਣ ਵਾਲੇ ਅੱਖਰਾਂ ਨੂੰ _____ ਕਹਿੰਦੇ ਹਨ ।
- iii) ਪੰਜਾਬੀ ਵਿੱਚ ਸ ਤੋਂ ਲ ਤਕ ਸਾਰੇ _____ ਹਨ ।
- iv) ਹ, ਰ, ਵ ਤਿੰਨ _____ ਹਨ ।

2. ਹੇਠ ਲਿਖੇ ਪ੍ਰਸ਼ਨਾਂ ਦੇ ਉੱਤਰ ਦਿਓ ।

(4x1=4)

- i) ਪੰਜਾਬੀ ਬੱਚੇ ਦੀ ਮਾਂ ਬੋਲੀ ਕਿਹੜੀ ਹੈ?
- ii) ਪੜ੍ਹ , ਆਲ੍ਹਣਾ ਸ਼ਬਦਾਂ ਵਿੱਚ ਕਿਹੜਾ ਪੈਰ ਅੱਖਰ ਹੈ ?
- iii) ਪੈਰ ਬੰਦੀ ਵਾਲੇ ਅੱਖਰ ਲਿਖੋ ।
- iv) ਹਿੰਦੀ ਕਿਹੜੀ ਭਾਸ਼ਾ ਹੈ ?

3. ਸ਼ਬਦਾਂ ਦੇ ਅਰਥ ਦੱਸੋ ।

(3x1=3)

- i) ਬੁੱਢੇ ii) ਗੁਣਕਾਰੀ iii) ਮਾਣ

4. ਹੇਠ ਲਿਖੇ ਪ੍ਰਸ਼ਨਾਂ ਦੇ ਉੱਤਰ ਦਿਓ ।

(3x1=3)

- i) ਪੰਜਾਬ ਦੇ ਕਿਸਾਨ ਕੀ ਪੈਦਾ ਕਰਦੇ ਹਨ ?
- ii) ਹਰੀਸ਼ ਦੀ ਡਿਊਟੀ ਕਿੱਥੇ ਲੱਗੀ ਸੀ ?
- iii) ਆਦਮੀ ਨੇ ਅੰਤ ਵਿੱਚ ਕਿਹੜਾ ਫਲ ਖਰੀਦਿਆ ?

5. ਖਾਲੀ ਥਾਵਾਂ ਭਰੋ ।

(2x1=2)

i) ਸੰਤਰੇ ਦਾ ਰਸ _____ ਹੁੰਦਾ ਹੈ ।

ii) 14 ਸਾਲ ਦੇ ਮੁੰਡੇ ਨੇ ਕਿੰਨਾ _____ ਵਾਲਾ ਕੰਮ ਕੀਤਾ ।

6. ਵਾਕ ਬਣਾਓ ।

(2x1=2)

i) ਹੱਥ ii) ਦੇਸ਼

7. ਵੱਡੇ ਪ੍ਰਸ਼ਨ ਦਾ ਉੱਤਰ ਦਿਓ ।

(2)

ਅੰਬ ਦੀਆਂ ਦੋ ਕਿਸਮਾਂ ਦੇ ਨਾਂ ਦੱਸੋ ।

8. ਹੇਠ ਲਿਖੇ ਪ੍ਰਸ਼ਨਾਂ ਦੇ ਦੋ-ਤਿੰਨ ਸ਼ਬਦਾਂ ਵਿੱਚ ਉੱਤਰ ਦਿਓ :

(3x1=3)

i) ਜੰਗਲ ਦਾ ਰਾਜਾ ਕੌਣ ਸੀ ?

ii) ਹਰੀਸ਼ ਕਿੱਥੇ ਜਾ ਰਿਹਾ ਸੀ ?

iii) ਇੱਕ ਸੰਤਰੇ ਵਿੱਚ ਕਿੰਨੀਆਂ ਫਾੜੀਆਂ ਹੁੰਦੀਆਂ ਹਨ ?

9. ਪੰਜਾਬੀ ਦੀਆਂ ਚਾਰ ਉਪ-ਬੋਲੀਆਂ ਦੇ ਨਾਂ ਦੱਸੋ ।

(2)